

# **1. Здание, изображенное на фото – это:**

**1. Религиозный центр Ближнего Востока**

**2. Политический центр Ближнего Востока**

**3. Центр ближневосточного искусства**



## 2. Здание, изображенное на фото – это:



1. Мечеть  
Купол Скалы
2. Усыпальница  
Тадж-Махал
3. Комплекс  
Бурдж Дубай

### 3. Напишите, как называются фонтаны такого типа:



## **4. Функции искусства в этом памятнике – это:**



- 1. Повышение авторитета власти**
- 2. Демонстрация силы власти**
- 3. Оба ответа верны**

## **5. Функции искусства в этом памятнике – это:**



- 1. Повышение авторитета власти**
- 2. Демонстрация силы власти**
- 3. Оба ответа неверны**

ИСКУССТВО

И И

ВЛАСТЬ

# Православие – источник искусства и власти на

## Древней Руси

988 г. – крещение Руси

989 г. –

строительство

Десятинной церкви

успения пресвятой

Богородицы



Кн. Владимир  
Креститель



# «Божественная мудрость» князя Ярослава Мудр



1037

2.




1045

2.






# Памятники искусства кн. Ивана III Великого





# Памятники искусства и Иван IV Грозный



reactor.cc



# Искусство эпохи Петра Великого




Ворон  
еж




Тул  
а



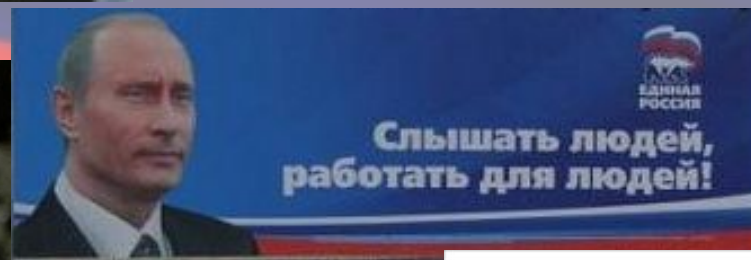
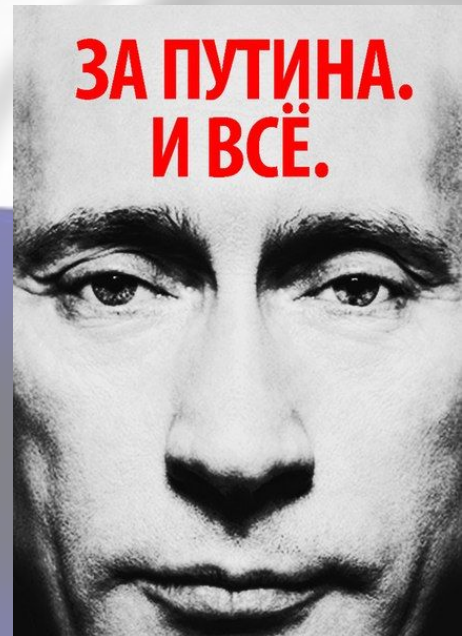
# Власть и искусство в XIX в.



# Власть и искусство в XX в



# Власть и искусство в XXIV.



Я  за  
Путина,  
потому что  
он-Молодец

# Домашнее задание

- *Стр. 102-107*

- **Создайте**

**рекламный плакат**

**по изученной теме**