

**Урок
математики
в 1 классе**

?????

3

4

5

7

8

9

6

7

8

8

9

10



Вычисли

$5 + 1 =$

6

$5 - 1 =$

4

$7 + 1 =$

8

$8 - 1 =$

7

$2 + 1 =$

3

$6 - 1 =$

5

$9 + 1 =$

10

$4 - 1 =$

3



Вычисли

$6 + 1 =$

7

$8 - 1 =$

7

$7 - 1 =$

6

$3 - 1 =$

2

$9 - 1 =$

8

$8 + 1 =$

9

$5 + 1 =$

6

$2 - 1 =$

1




Тема
урока

Сложение и вычитание

$+1+1, -1, -1$



?????




$$2 + 1 + 1 = 4$$

$$6 - 1 - 1 = 4$$

Стр. 82 Рассмотрите рисунки, схемы и равенства. Объясните, сколько всего прибавили, сколько всего вычли.

Объясни

и



$$4 - 1 - 1 = 2$$

$$7 + 1 + 1 = 9$$


№1. Сколько всего вычли? Сколько всего прибавили?

Состав

ь

Стр. 83

№4



$$3 + 1 + 1 = 5$$

$$5 - 1 - 1 = 3$$



Пока Миша с мамой ждали свой поезд, прошло 3 товарных поезда и 2 скорых. Сколько всего поездов прошло?



$$3 + 2 = 5 \text{ (п.)}$$

Ответ: 5 поездов
прошло.



У Вали было



Она съела 2 конфеты.

Сколько

конфет ~~осталось~~ у Вали?



$$3 - 2 = 1 \text{ (к.)}$$

Ответ: 1 конфета

осталась у

В тетрадях решить:
стр.83, №9, под знаком ?

