

**Наименьшее трёхзначное число.
Сотня.**



**Составитель: Беляева Ирина
Владимировна
учитель начальных классов
I кв. категория
МБОУ СОШ с. Кремово**

УРОК № 10

Организационный момент

- Очень я хочу учиться
- Не лениться, а трудиться.
- Точно знаю – я смогу,
- И ребятам помогу.



УСТНЫЙ СЧЁТ

Назови все двузначные числа, в которых
единиц
на 4 меньше, чем десятков?

40 57 51 86 62 92
73 84 95

В каких числах сумма цифр равна

14 ?

77

69

68

78

59

55

39

88



Назови числа, в которых десятков больше, чем единиц.

82 29 51 31 97

58 83 62

У Маши **5** пакетов семян с овощами, а с цветами на **6**

больше. Сколько пакетов семян с цветами у Маши?

$$5 + 6 = 11 \text{ (п.)}$$

Сколько всего пакетов с цветами и овощами у Маши?

$$11 + 5 = 16$$

(п.)



У Маши поместилось в портфель только **4** яблока, это меньше на **3**, чем она хотела принести в школу для друзей.


Сколько яблок хотела принести Маша для друзей?

7

яблок

$$4 + 3 = 7$$

яблока



В аптечке у Маши **5** бинтов, **7** шприцов, а таблеток столько, сколько бинтов и шприцов вместе. Сколько таблеток у Маши в аптечке?

$$5 + 7 = 12 \text{ (т.)}$$






12 таблеток

НОВЫЙ МАТЕРИАЛ





**Какое самое маленькое
трёхзначное число ?**



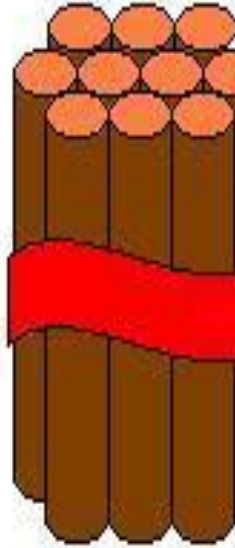
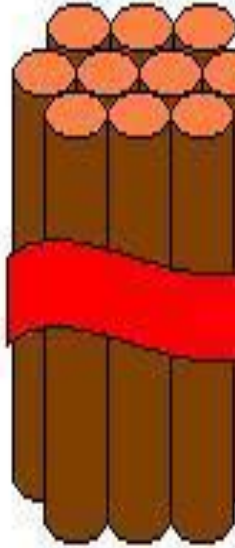
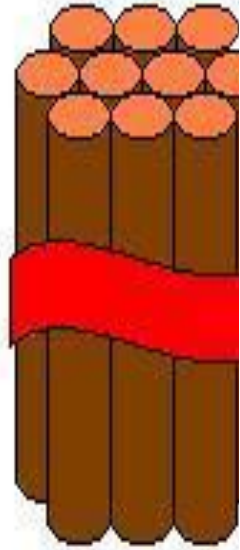





23



14




36



29

Реши выражения



- $90-30 = 60$
- $40+40 = 80$
- $50-10 = 40$
- $70-10 = 60$
- $90-20 = 70$
- $30+10 = 40$
- $20+30 = 50$



Задачи от Мудрой Совы

В лесной школе у Мудрой Совы за прошлый год побывало 70 учеников, а за этот год на 30 учеников больше.

Сколько учеников побывало в школе у Мудрой Совы за второй год?

РАБОТА ПО УЧЕБНИКУ



Стр. 12



ЗАДАНИЯ НА СМЕКАЛКУ



Сколько всего отрезков на
чертеже?



3 отрезка



Разгадай
ребус.

Ща
Да

задача



Конец

